



Euroconcurs.ro- Teste de Rationament Abstract

**Inveti PAS cu PAS prin exercitii secretele testelor
de rationament abstract!**

Lectia #3 Teste de Rationament Abstract

Autor: Dr. Mihaela Stroe, Training Manager Euroconcurs

ATENȚIE: Este INTERZIS sa dai mai departe aceasta lectie!

Daca ai obtinut aceasta lectie din alta parte decat de la <http://www.euroconcurs.ro>, atunci ai o copie ilegala.

Te rog ajuta la combaterea criminalitatii pe Internet si instiinteaza-ma la aceasta adresa: info@euroconcurs.ro

© Euroconcurs

TOATE DREPTURILE REZERVATE. Nici o parte din aceasta lectie nu poate fi reprodusa sau transmisa sub nici o forma, electronica, mecanica, foto copiata sau prin orice alt mijloc de stocare al informatiei fara acordul in scris, datat si semnat al autorului.

AVERTISMENT/NOTIFICARI JURIDICE:

Informatia prezentata aici reprezinta viziunea autorului la data publicarii acesteia. Deoarece informatia se schimba cu o viteza foarte mare, autorul isi rezerva dreptul sa modifice sau sa actualizeze opiniile sale in functie de noile schimbari. Textele cuprinse in aceasta lectie au ca scop doar informarea cititorului despre ce presupun testele de rationament abstract care se sustin in etapa de pre-selectie EPSO. Chiar daca ne-am straduit sa verificam toate informatiile furnizate in aceasta lectie, autorul nu-si asuma vreo responsabilitate pentru erori, informatii inexacte sau omisii.

Daca ai intrebari suplimentare despre ce inseamna testele de rationament abstract le poti trimite pe e-mail la info@euroconcurs.ro. Desi nu putem sa raspundem la orice e-mail individual, promitem sa citim orice intrebare si sa-ti oferim raspuns in lectiile si bonusurile ce vor urma.

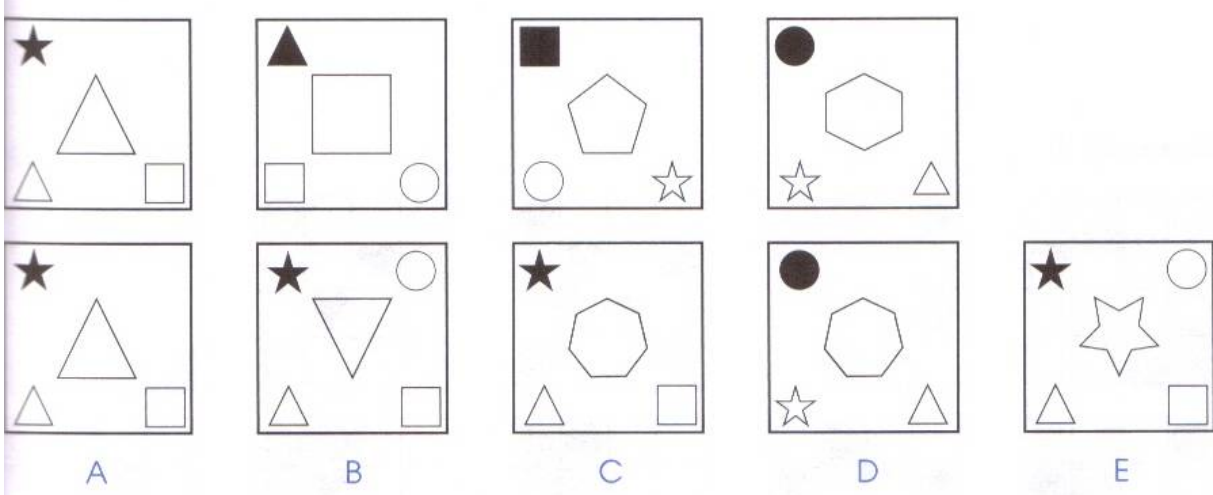
Scopul acestui material este de a te familiariza cu ce reprezinta testele de rationament abstract. Sugestia este sa rezolvi mai intai testele contra-cronometru si apoi sa verifici raspunsurile corecte.

Retine: Exerseaza! Exerseaza! Exerseaza!

Mult succes!


Model test rationament abstract nr. 1

Alege diagrama care completeaza seria.



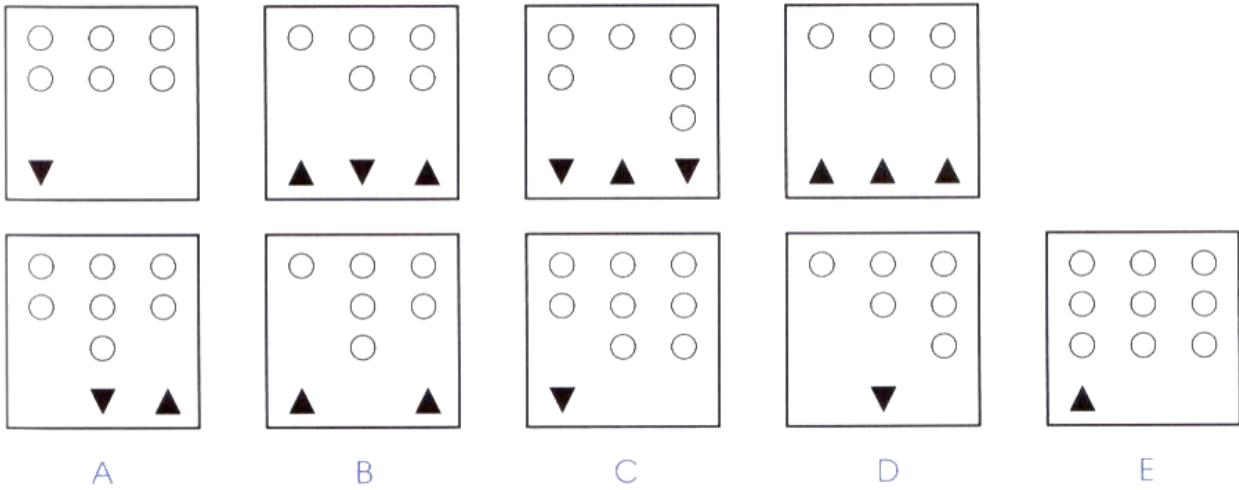
Model test rationament abstract nr. 2

Alege diagrama care completeaza seria.



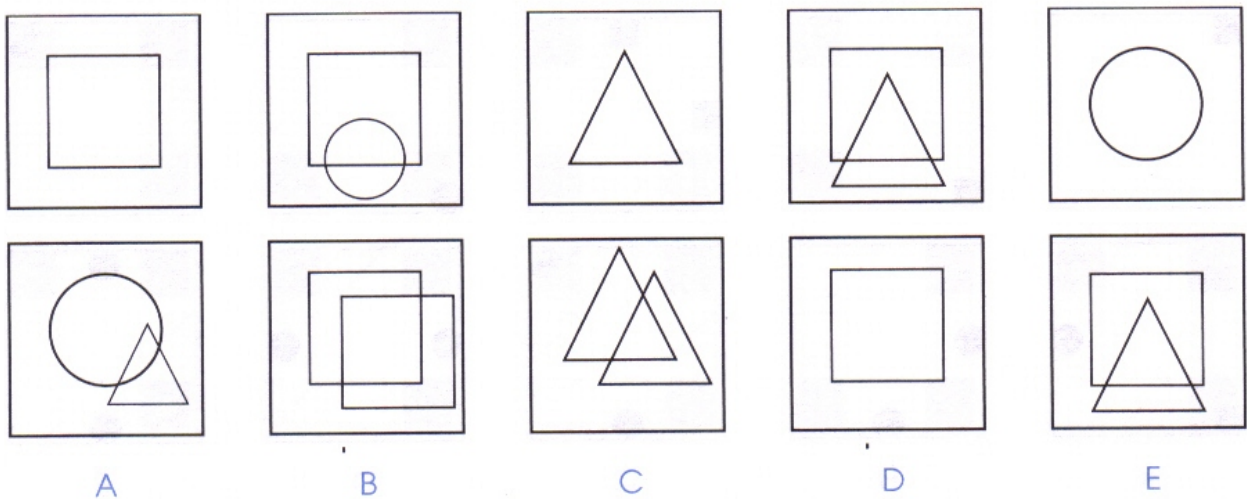
Model test rationament abstract nr.3

Alege diagrama care completeaza seria.



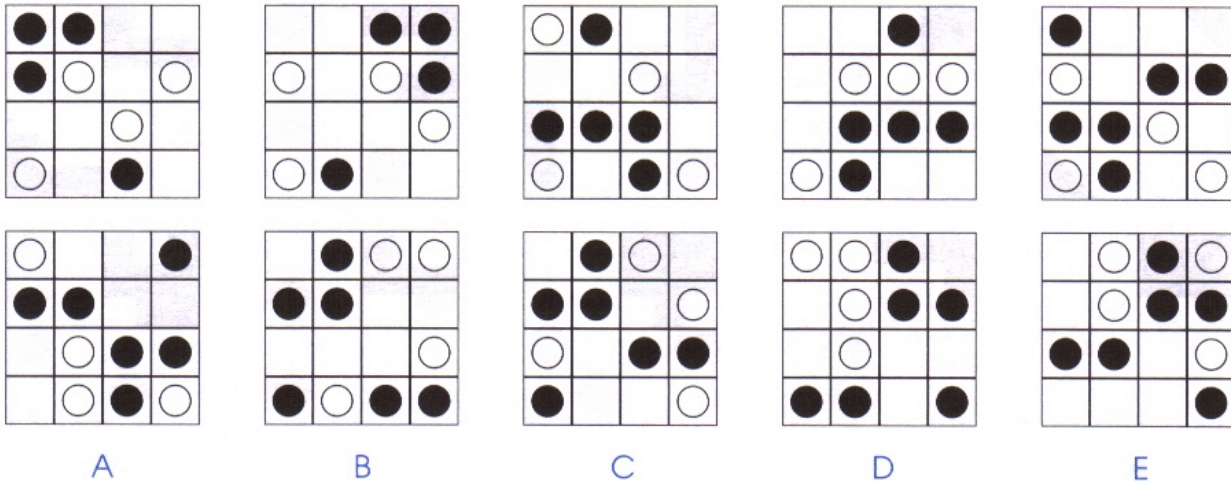
Model test rationament abstract nr. 4

Alege diagrama care completeaza seria.



Model test rationament abstract nr. 5

Alege diagrama care completeaza seria.



Raspunsuri corecte

Test rationament abstract nr. 1

Raspuns corect C.

Explicatie:

- Numarul laturilor figurii centrale creste cu 1;
- Figurile externe se rotesc 90° in sensul acelor de ceasornic;
- Figura din coltul stanga-sus este mereu neagra;
- Figura din coltul dreapta-sus este inivizibila.

Test rationament abstract nr. 2

Raspuns corect C.

Explicatie:

- Trebuie urmarite diagramele 1-2; 3-4;
- In diagramele impare sunt doua elemente: stanga-sus (A); dreapta-jos (B);
- Elementul B se roteste (90°) in jurul lui in sens invers acelor de ceasornic si se muta in coltul stanga-sus.

Test rationament abstract nr. 3

Raspuns corect C.

Explicatie:

1. Triunghiurile orientate cu varful in jos elimina cercuri albe;
2. Triunghiurile orientate cu varful in sus adauga cercuri albe.

Test rationament abstract nr. 4

Raspuns corect A.

Explicatie:

Diagramele pare castiga inca un element care se suprapune peste elementul replicat din diagramele impare.

Test rationament abstract nr. 5

Raspuns corect A.

Explicatie:

Cercurile albe sunt distribuite aleator;

Cercurile negre in diagramele impare se reflecta pe axa verticala centrala in diagramele pare.

Sugestie: Avand in vedere ca testul de rationament abstract din cadrul CBT este contra-cronometru (10 Q in 10 de min- deci ai 1 minut pentru o intrebare) te sfatuim sa te cronometrezi pentru toate cele 5 teste prezentate mai sus!!!